

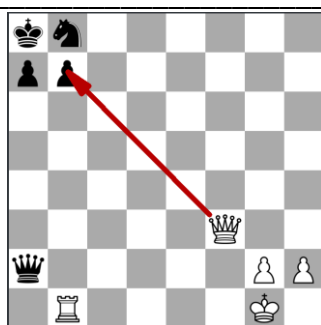
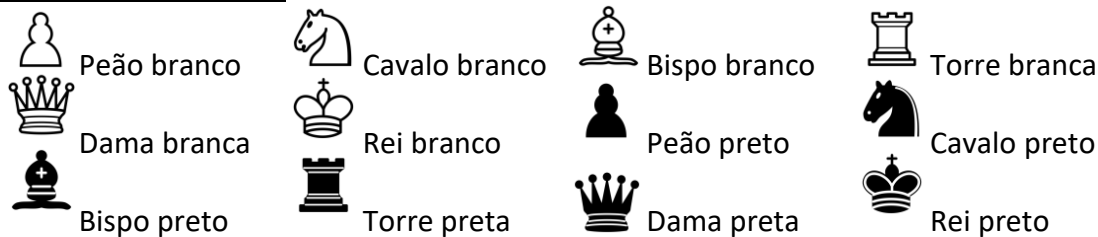
Outono, 2020. Londrina, 30 de março.

Nome: _____ Turma: 5º ano

Área do conhecimento: Xadrez | Professor(a): Hideo

XEQUES-MATES EM UMA JOGADA – PARTE 1

Atenção às peças:




Atividade 1:


Em cada posição abaixo, as brancas podem fazer seu movimento correto e é xeque-mate.

Utilize uma seta vermelha para indicar o movimento (Assim como no exemplo ao lado).


Posição 1:




Posição 2:




Posição 3:



Posição 4:



Posição 5:



Posição 6:

