

NOME: _____

TURMA: 1º ANO







MATEMÁTICA

I. COMPLETE A TABELA:

DADOS	EM MATEMÁTICA	TOTAL
	<input type="text"/> + <input type="text"/>	<input type="text"/>
	<input type="text"/> + <input type="text"/>	<input type="text"/>
	<input type="text"/> + <input type="text"/>	<input type="text"/>
	<input type="text"/> + <input type="text"/>	<input type="text"/>
	<input type="text"/> + <input type="text"/>	<input type="text"/>
	<input type="text"/> + <input type="text"/>	<input type="text"/>

II. JOGUE UM DADO (FACES DE 1 A 6), O OUTRO EU VOU JOGAR COMO MOSTRA A TABELA ABAIXO. O TOTAL TERÁ QUE SER O CINCO.

COMPLETE A TABELA:

DADOS	EM MATEMÁTICA	TOTAL
	<input type="text"/> + <input type="text"/>	<input type="text" value="5"/>
	<input type="text"/> + <input type="text"/>	<input type="text" value="5"/>
	<input type="text"/> + <input type="text"/>	<input type="text" value="5"/>
	<input type="text"/> + <input type="text"/>	<input type="text" value="5"/>

III. JOGANDO DOIS DADOS (FACES DE 1 A 6), QUANTAS VEZES O TOTAL SERÁ O CINCO?

IV. TÊM OUTRAS MANEIRAS DE DAR O CINCO JOGANDO DOIS DADOS (FACES DE 1 A 6), ALÉM DAS QUE COLOCOU NA TABELA ACIMA?

TÉRMINO:

