


NOME: \_\_\_\_\_

TURMA: 1º ANO








## MATEMÁTICA

### I. COMPLETE A TABELA:

DADOS	EM MATEMÁTICA	TOTAL
	<input type="text"/> + <input type="text"/>	<input type="text"/>
	<input type="text"/> + <input type="text"/>	<input type="text"/>
	<input type="text"/> + <input type="text"/>	<input type="text"/>
	<input type="text"/> + <input type="text"/>	<input type="text"/>
	<input type="text"/> + <input type="text"/>	<input type="text"/>
	<input type="text"/> + <input type="text"/>	<input type="text"/>

II. JOGUE UM DADO (FACES DE 1 A 6), O OUTRO EU VOU JOGAR COMO MOSTRA A TABELA ABAIXO. O TOTAL TERÁ QUE SER O SEIS.

COMPLETE A TABELA:

DADOS	EM MATEMÁTICA	TOTAL
	<input type="text"/> + <input type="text"/>	<input type="text" value="6"/>
	<input type="text"/> + <input type="text"/>	<input type="text" value="6"/>
	<input type="text"/> + <input type="text"/>	<input type="text" value="6"/>
	<input type="text"/> + <input type="text"/>	<input type="text" value="6"/>
	<input type="text"/> + <input type="text"/>	<input type="text" value="6"/>

III. JOGANDO DOIS DADOS (FACES DE 1 A 6), QUANTAS VEZES O TOTAL SERÁ O SEIS?

IV. TÊM OUTRAS MANEIRAS DE DAR O SEIS JOGANDO DOIS DADOS (FACES DE 1 A 6), ALÉM DAS QUE COLOCOU NA TABELA ACIMA?

V. QUANTAS MANEIRAS DE DAR O SETE JOGANDO DOIS DADOS (FACES DE 1 A 6)?

COLOQUE TODAS NA TABELA ABAIXO?

EM MATEMÁTICA	TOTAL
<input type="text"/> + <input type="text"/>	<input type="text"/>
<input type="text"/> + <input type="text"/>	<input type="text"/>
<input type="text"/> + <input type="text"/>	<input type="text"/>
<input type="text"/> + <input type="text"/>	<input type="text"/>
<input type="text"/> + <input type="text"/>	<input type="text"/>
<input type="text"/> + <input type="text"/>	<input type="text"/>

TÉRMINO:

