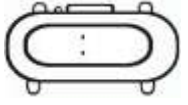


NOME: _____

TURMA: 1º ANO

INÍCIO:



MATEMÁTICA- DIÁRIO DO TEMPO DE AGOSTO

OBSERVE OS SEUS REGISTROS NO DIÁRIO DO TEMPO DO MÊS DE AGOSTO.

1º) PREENCHA A TABELA COM A QUANTIDADE CORRESPONDENTE DE DIAS:






ENSOLARADO



NUBLADO



CHUVOSO.

CONDIÇÕES DO TEMPO	QUANTIDADE DE DIAS
	
	
	
TOTAL	

I- QUANTOS DIAS TEVE O MÊS DE AGOSTO?

II- QUANTOS DIAS ENSOLARADOS?

III- QUANTOS DIAS NUBLADOS?

IV- QUANTOS DIAS CHUVOSOS?

V- COMPLETE:

O MÊS DE AGOSTO TEVE MAIS DIAS _____.

TÉRMINO:

