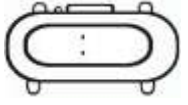


NOME: _____

TURMA: 1º ANO


INÍCIO:



MATEMÁTICA

VAMOS RELEMBRAR!

JÉSSICA

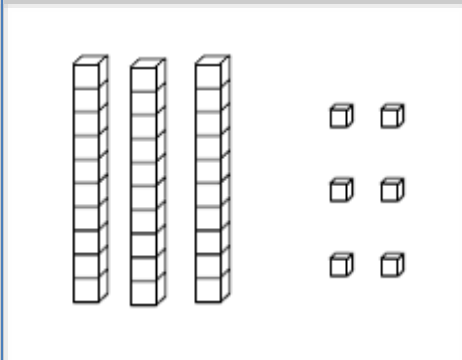


1 UNIDADE

10 UNIDADES OU
1 DEZENA

1- OBSERVE O EXEMPLO A SEGUIR E COMPLETE AS DEMAIS QUANTIDADES COM AS INFORMAÇÕES QUE ESTÃO FALTANDO.

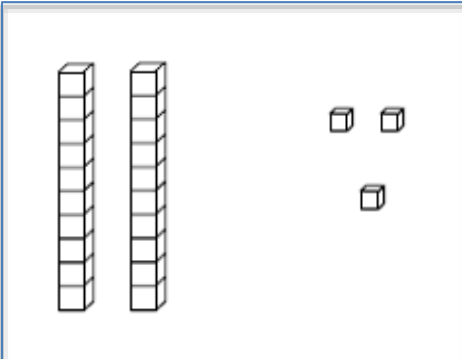
EXEMPLO:



$10 + 10 + 10 + 6$

3 DEZENAS E 6 UNIDADES

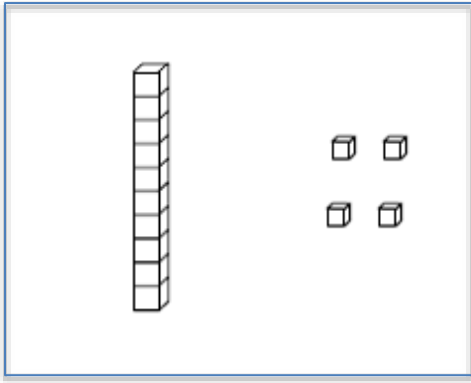
36 OU TRINTA E SEIS



$10 + 10 + 3$

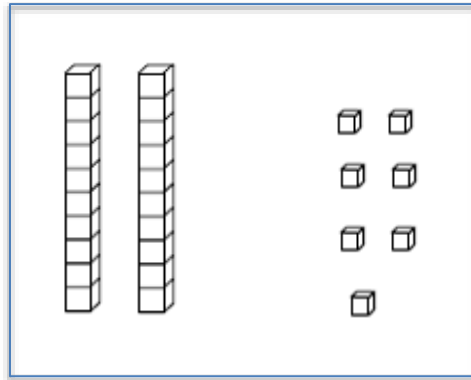
___ DEZENAS E ___ UNIDADES

23 OU _____



___ DEZENA E ___ UNIDADES

___ OU QUATORZE



$10 + 10 + 7$

___ DEZENAS E ___ UNIDADES

27 OU _____

2- COMPLETE AS SENTENÇAS MATEMÁTICAS.

+ 4 = 24

+ 8 = 28

30 + = 36

10 + = 15

10 + = 17

+ 9 = 19

TÉRMINO:

