



Nome: _____

Ano: _____

Tempo	Início:	Término:	Total:
-------	---------	----------	--------

Edição 32 MMXX

Fase 3

Grupo Épsilon'

PROTOCOLO DE SEGURANÇA PARA O RETORNO ÀS AULAS

Na página 13 da Cartilha, encontra-se o seguinte texto:

Informe à Escola sobre o meio de transporte utilizado pelas famílias para se deslocar à escola (se individual ou coletivo), especialmente se houver compartilhamento de veículos com pessoas de fora do círculo de distanciamento social (ex.: pessoas que não sejam da família) e/ou deslocamento com vidros fechados.

Questão 1

a) Em outra escola, o Gil perguntou aos colegas qual era o transporte que usavam para ir à escola. Cada colega usava apenas um transporte. Com os dados recolhidos, construiu a tabela seguinte.

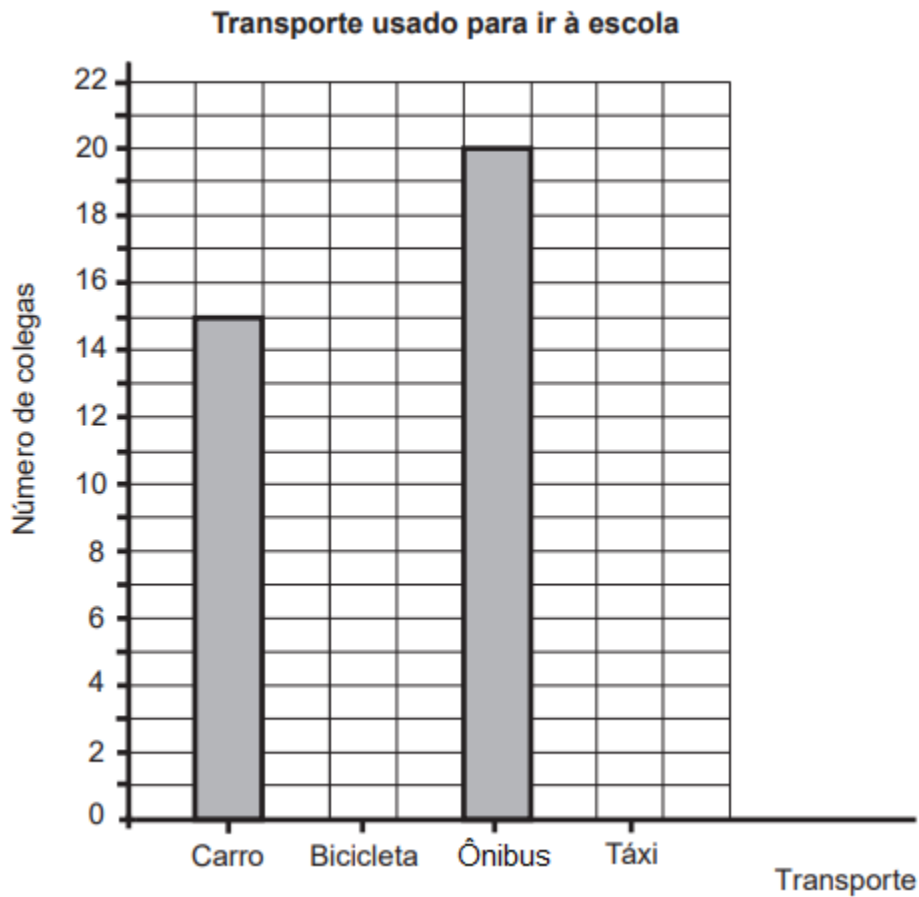
Transporte	Número de colegas
Carro da família	15
Bicicleta do aluno	7
Ônibus	20
Táxi	4

Quantos colegas responderam ao Gil?

Resposta: Responderam ao Gil _____ colegas.

b) Complete o gráfico de barras seguinte, usando os dados da tabela.

Utilize o lápis.



Ainda na página 13, na Cartilha, estão as informações sobre o lanche e roupas.


A mochila deverá conter o lanche bem embalado e dentro de um saquinho, além de duas garrafas identificadas e cheias d'água. É recomendável levar uma troca de roupa limpa e três máscaras adicionais, separadas em saquinhos, para trocar quando necessário.

Questão 2

Para o lanche de seus filhos, uma mãe comprou maçãs para 4 dias da semana.

Quantas maçãs eles comerão, por dia? Circule as maçãs de cada dia.

Os filhos comerão _____ por dia.



Questão 3

Recomenda-se que o aluno leve uma troca de roupas para a escola. Um aluno do segundo ano resolveu levar 2 trocas: dois shorts e duas camisetas. Calcule de quantas maneiras diferentes ele pode combinar as peças, escolhendo entre 2 shorts (vermelho e azul) e 2 camisas (branca e amarela).

Mostre como você pensou.



Questão 4

Observe o quadro de horários apresentado na Cartilha.

Horário de entrada diferenciado		
7h	5º ano	rua Turquia
7h15	4º ano	rua Chipre
7h30	3º ano	rua Turquia
13h	2º ano	rua Turquia
13h30	1º ano	rua Chipre

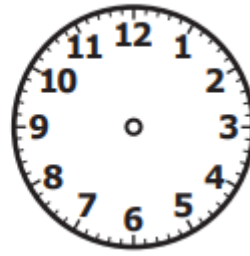
Horário de saída diferenciado		
11h30	5º ano	rua Turquia
11h45	4º ano	rua Chipre
12h	3º ano	rua Turquia
17h30	2º ano	rua Turquia
17h40	1º ano	rua Chipre

Responda:

- a) A que horas você entrará na Escola?
- b) A que horas sairá?
- c) Marque nos relógios a que horas você entrará e a que horas sairá.



ENTRADA



SAÍDA

Quanto ao uso de materiais escolares

Não é permitido compartilhar objetos pessoais, livros, jogos e materiais didáticos, ainda que seja entre alunos da mesma turma.

Questão 5

Um aluno tem dois lápis em sua mesa. Use a régua para medir o comprimento de cada lápis até o centímetro mais próximo.



a) Quanto mede o lápis mais curto (aproximadamente)?

.....

b) Quanto mede o lápis mais longo (aproximadamente)?

.....