



Primavera, 2020. Londrina, ____ de .

Nome: _____

Turma: _° Ano

Tempo

Início:

Término:

Total:

Edição 27

Fase 3

2ºANO


ÁGUA NA LUA

Questão 1

a) Pinte, de qualquer cor, o único astro que só pode ser visto durante o dia.



COMETA



SOL



LUA



PLANETAS



ESTRELAS

b) Explique por que só pode ser visto de dia.

Questão 2

Escreva ESPACIAL ou TERRESTRE debaixo de cada desenho se ele pertencer ao ESPAÇO ou à TERRA. Espaço é tudo que está além da atmosfera.

AVIÃO



.....

SOL



.....

PÁSSAROS



.....

LUA



.....

NUVENS



.....

Questão 3

No desenho ao lado, da Lua e algumas estrelas, faça um CÍRCULO sobre a única estrela que não poderia estar onde foi desenhada, pois nunca seria vista ali. Explique por quê.



Questão 4

Ligue as palavras às respectivas imagens.

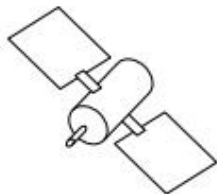
ASTRONAUTA

FOGUETE

SATÉLITE ARTIFICIAL

PLANETA TERRA

LUA



Agora, escreva as palavras em ordem alfabética.

Blank writing area with horizontal dashed lines.

Questão 5


Pinte com qualquer cor, ou faça um círculo ao redor do veículo que os astronautas usaram para pousar na Lua em 1969.



MÓDULO LUNAR



ÔNIBUS ESPACIAL



ASTRONAUTA



FOGUETE