

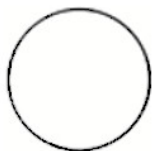


Primavera, 2020. Londrina, ____ de novembro.

Nome: _____ Turma: _° Ano

Tempo Início: _____ Término: _____ Total: _____

Edição 38 MMXX fase 3 grupo gama



PAIXÃO PELA LEITURA




Box - Harry Potter: Série Completa - Rowling, J.K. a partir de R\$ 259,90

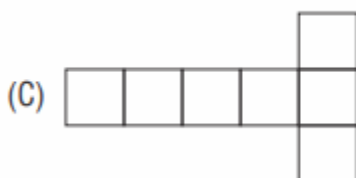
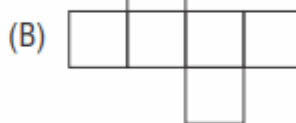
Os sete livros que contam a trajetória do nosso bruxinho durante seus anos na Escola de Magia e Bruxaria já foram organizados em diversas coleções, boxes e edições, cada um com sua particularidade. A Rocco lançou, em 2015, o box Harry Potter Série Completa, onde as lombadas alinhadas dos livros formam um lindo desenho de Hogwarts.

Questão 1

Essa embalagem tem o formato de um cubo, como mostra a figura abaixo:



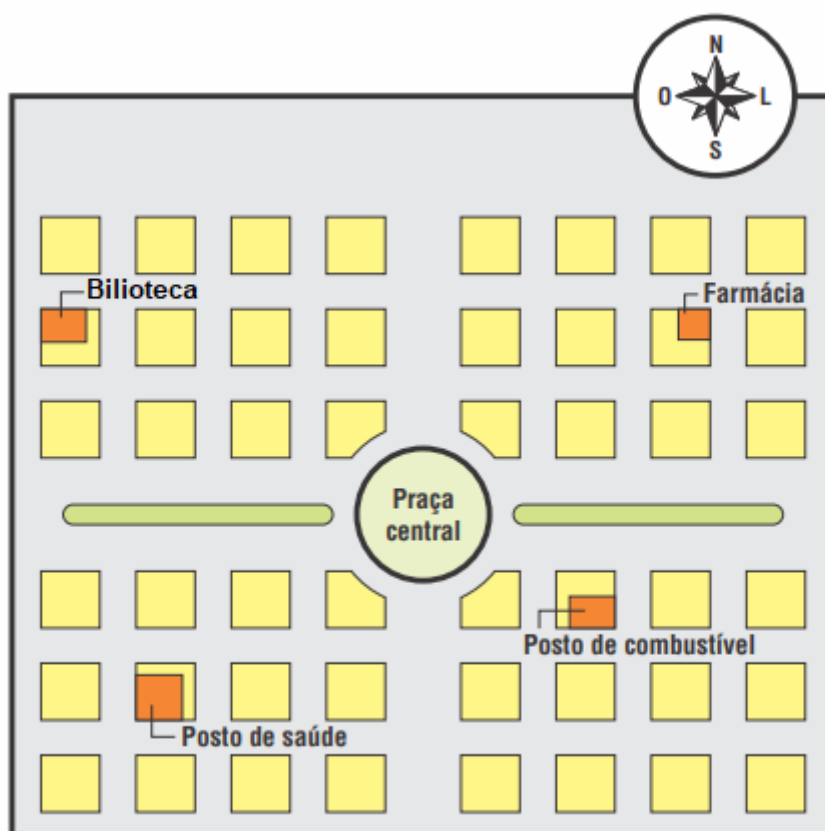
Uma possível planificação dessa embalagem é:





A Bienal Internacional do Livro de São Paulo é o imenso palco que celebra a transformação que os livros fazem na vida das pessoas. Momento de aprender, conhecer autores, realizar sonhos, encontrar novos livros, fazer novos amigos... Expandindo nossa forma de pensar e agir.

Questão 2



I. Mário saiu da praça central e, orientando-se por esse mapa, caminhou 4 quadras na direção oeste e, depois, 2 quadras na direção norte.

Diante do exposto no mapa, aonde Mário parou:

- (A) Posto de saúde
- (B) Farmácia
- (C) Posto de gasolina
- (D) Biblioteca

II. Descreva o caminho de Mário de volta ao ponto inicial.

Mostre como você pensou.



Cebolinha, da 'Turma da Mônica', completa 60 anos


O personagem Cebolinha, uma das mais carismáticas criações de Maurício de Sousa na *Turma da Mônica*, completa 60 neste sábado, 24.

Surgido em 1960 como um coadjuvante nas tirinhas de Bidu e Franjinha, o filho de Seu Cebola e Dona Cebola se notabilizou por pronunciar de forma errada – ou “elada” – as palavras com a letra R, ganhando popularidade entre os leitores.

Questão 3

A roda gigante de um parque de diversões gira em torno de um eixo. Uma volta completa corresponde a um movimento de 360 graus ou 360° . Neste momento, quatro personagens estão posicionados na roda gigante.

Em relação à posição indicada pela seta, o personagem que fez $\frac{1}{4}$ da volta é:



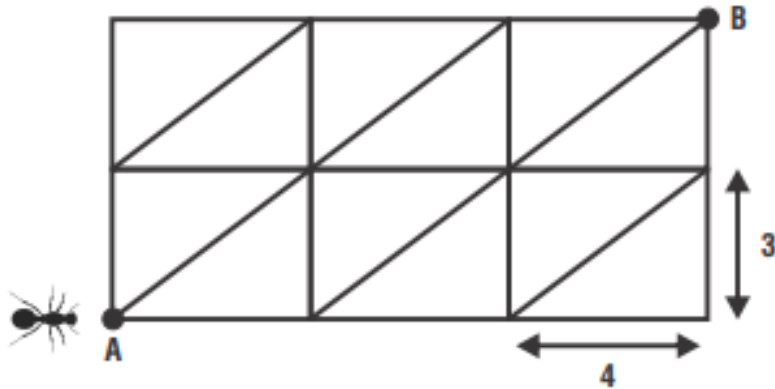
A Formiguinha e a Neve

Para ouvir essa história, feche os olhos e imagine uma cidadezinha bem bonita, onde bicho fala e homem entende. Ali havia um formigueiro que trabalhava sem parar. Ficava o dia inteiro procurando alimento para que quando o inverno chegasse ele não lhe faltasse.

Questão 4

Uma formiga está no ponto A da malha mostrada na figura. A malha é formada por retângulos de 3 cm de largura por 4 cm de comprimento.

A formiga só pode caminhar sobre os lados ou sobre as diagonais dos retângulos. Qual é a menor distância que a formiga deve percorrer para ir de A até B?



Trace uma linha sobre a figura para mostrar o caminho.

Explique como você pensou.

Questão 5

Desenhe o caminho para o Pequeno Príncipe chegar ao planeta Terra.

